



PREFEITURA MUNICIPAL DE MAIRINQUE
SECRETARIA DE EDUCAÇÃO E CULTURA

Rua Joaquim de Oliveira, 410 - Jd. Cruzeiro – Mairinque/SP
CNPJ (MF) 45.944.428/0001-20 – CEP: 18.120.000 / Fone (11) 4718-9090

6º ROTEIRO AVALIAÇÃO PROCESSUAL

2º BIMESTRE - 8º ANO

Caros Alunos

A pandemia do novo coronavírus transformou a realidade do Sistema Educacional Mundial, nos levando a realizar adaptações em nossas práticas pedagógicas.

Diante do cenário atual, a **Secretaria de Educação do Município de Mairinque** disponibilizará em seu **6º Roteiro de Estudos**, a avaliação em processo que permitirá aos professores e a vocês, estudantes conhecerem o que foi assimilado e o que ainda precisa ser aprofundado ao longo desse nosso percurso; monitorando sua evolução educacional e viabilizando melhores condições de retorno, quando este for possível.

Para cada componente curricular (disciplina), haverá questões de múltipla escolha com apenas uma alternativa correta.

Visando melhorar seu aproveitamento de estudos é necessário ler, observar, analisar comparar, refletir, calcular para tomadas de decisões mais assertivas.

Pensando em medidas de segurança e atitudes de prevenção individuais e coletivas, serão disponibilizadas três formas de obter a avaliação e você poderá optar por **uma** delas, ou seja, a que você e seus familiares julgarem a mais adequada.


1. Acessar e imprimir o arquivo em PDF no Web Site da Prefeitura.
2. Responder através do link de Formulário Google que estarão em PDF no Website, juntamente com as orientações necessárias.
3. Documento impresso retirado na unidade escolar, respeitando as orientações de combate à pandemia e seguindo o organograma abaixo:
4. Fique atento para a **data de devolução da avaliação e horários**, se optar por formulário Google é só clicar em **“ENVIAR”**, após conferir e finalizar.

RETIRADA DAS AVALIAÇÕES - 8h às 12h e 13h às 16h	
01 de setembro – 3ª feira	6º ano e 7º ano
02 de setembro – 4ª feira	8º ano e 9º ano
DEVOLUÇÃO DAS AVALIAÇÕES IMPRESSAS E RESPONDIDAS - 8h às 12h e 13h às 16h	
06 de outubro – 3ª feira	6º ano e 7º ano
07 de outubro – 4ª feira	8º ano e 9º ano

Desejamos a vocês, sucesso em todos os caminhos que vocês percorrerem e nunca se esqueçam do seu grande potencial. Lembrem-se, isso vai passar, e após esses meses vocês saberão lidar melhor com as incertezas, medo e ansiedade.

“Tempos difíceis fazem pessoas fortes”
Secretaria Municipal de Educação de Mairinque

O COMBATE À COVID 19 DEPENDE DE TODOS NÓS



DICAS AMBIENTAIS PARA OS TEMPOS DE ISOLAMENTO

<http://meioambientenascolas.org.br/dicas-ambientais/estudantes-e-familias/>

COMO FICA O ÓLEO DE COZINHA USADO DURANTE A QUARENTENA?

Programa Meio Ambiente nas Escolas

Preserva INSTITUTO AUA

- 1º passo**
ESPERE O ÓLEO ESFRIAR NA PANELA
- 2º passo**
DESPEJE O ÓLEO FRIO NUMA GARRAFA PET
- 3º passo**
FECHE A GARRAFA PET PARA EVITAR AODRES
- 4º passo**
LIMPE A PANELA E O FUNIL COM UM GUARDANAPO E DESCARTE NO LIXO ORGÂNICO
- 5º passo**
GUARDE A GARRAFA CHEIA PARA LEVAR À ESCOLA QUANDO TUDO SE NORMALIZAR!

Escola:		
Nome Completo:		
Número:	8º ano:	Data:

LEITURA, INTERPRETAÇÃO E PRODUÇÃO DE TEXTO

Orientações: Leia com MUITA atenção. Assinale apenas uma alternativa. Utilize caneta azul ou preta. As respostas a lápis ou rasuras serão anuladas. Portanto, tenha muita atenção para realizar as atividades.

Texto I: Leia com atenção à crônica e responda:

Tatuagem

Enfermeira inglesa de 78 anos manda tatuar mensagem no peito pedindo para não proceder a manobras de ressuscitação em caso de parada cardíaca. Mundo Online, 4.fev.2003

Ela não era enfermeira (era secretária), nem inglesa (era brasileira) e não tinha 78 anos, mas sim 42: bela mulher, muito conservada. Mesmo assim, decidiu fazer a mesma coisa. Foi procurar um tatuador, com o recorte da notícia. O homem não comentou: perguntou apenas o que era para ser tatuado.

- É bom você anotar -disse ela- porque não será uma mensagem tão curta como essa da inglesa.

Ele apanhou um caderno e um lápis e dispôs-se a anotar.

- "Em caso de que eu tenha uma parada cardíaca" -ditou ela-, "favor não proceder à ressuscitação"...

- "E não procedam à ressuscitação, porque não vale a pena. A vida é cruel, o mundo está cheio de ingratos."

Ele continuou escrevendo, sem dizer nada...

Ela continuou falando. Agora voltava à sua infância pobre; falava no sacrifício que fora para ela estudar... Descrevia os tempos de namoro, o noivado, o casamento, etc. Àquela altura o tatuador, homem vivido, já tinha adivinhado como terminaria a história: sem dúvida ela fora abandonada pelo marido, que a trocara por alguma mulher mais jovem e mais bonita. E antes que ela contasse sua tragédia resolveu interrompê-la. Desculpe, disse, mas para eu tatuar tudo que a senhora me contou, eu precisaria de mais três ou quatro mulheres.

Ela começou a chorar. Ele consolou-a como pôde. Depois, convidou-a para tomar alguma coisa num bar ali perto.

Estão vivendo juntos há algum tempo. E se dão muito bem. Ela sente um pouco de ciúmes quando ele é procurado por belas garotas, mas sabe que isso é, afinal, o seu trabalho. Além disso, ele fez uma tatuagem especialmente para ela, no seu próprio peito. Nada de muito artístico, o clássico coração atravessado por uma flecha, com os nomes de ambos. Mas cada vez que ela vê essa tatuagem, ela se sente reconfortada. Como se tivesse sido ressuscitada, e como se estivesse vivendo uma nova, e muito melhor, existência.

Questão 5 - A música: "Dias melhores" tem o objetivo de transmitir:

- a) () Esperança b) () Tristeza c) () Paz d) () Medo

Questão 6 - O título da música sugere que a música quer nos transmitir:

- a) () Paciência b) () Impaciência c) () Pessimismo d) () Otimismo

Texto III: Leia a tirinha e em seguida responda às questões 7 e 8:



Questão 7 - No diálogo, a palavra "inquilino" é utilizada para:

- a) () caracterizar o morador de um imóvel alugado.
b) () caracterizar o coração da personagem do quadrinho.
c) () caracterizar a importância de devolver o troco.
d) () caracterizar a necessidade que a criança tem de comprar balas.

Questão 8 - No 2º quadrinho, a expressão da mãe é de:

- a) () alegria b) () medo c) () vergonha d) () espanto

GRAMÁTICA

Questão 1 - Leia as orações abaixo e classifique os objetos diretos (OD) e objetos indiretos (OI):

- I. *Vendi minhas bonecas.*
- II. *Meu irmãozinho gosta de seus brinquedos.*
- III. *Você confia em seu pai?*
- IV. *Fiz todas as lições.*

- a) () OD - OD - OI - OI c) () OD - OI - OI - OD
b) () OI - OD - OI - OD d) () OD - OD - OD - OI

Questão 2 - Leia as seguintes afirmações:

- I. Os trabalhadores consideram os salários irrisórios.
- II. As crianças estavam ansiosas para ver o palhaço.
- III. Todos os alunos estão atentos para a prova.
- IV. Aquelas ruas permaneciam desertas durante o dia.

Identifique quais apresentam PREDICATIVO DO SUJEITO:

- a) () I, II, III b) () I, III, IV c) () II, III, IV d) () I, II, III, IV

Questão 3 - Assinale a frase em que o termo em maiúsculo NÃO é um predicativo do sujeito:

- a) () Aqueles soldados são muito CORAJOSOS.
- b) () Rosana comprou flores PERFUMADAS.
- c) () Todas as crianças parecem FELIZES no parque.
- d) () O cientista foi aclamado um HERÓI.

Questão 4 - Assinale qual das orações abaixo apresenta PREDICATIVO DO OBJETO:

- a) () As meninas consideraram a tarefa difícil.
- b) () Ana está feliz.
- c) () O juiz é estudioso.
- d) () O chefe discutiu com os funcionários.

Leia as orações:

A torcida vaiou o juiz. – VOZ ATIVA

O aluno foi elogiado pelo professor. – VOZ PASSIVA

O jogador machucou-se no campo. – VOZ REFLEXIVA

Questão 5 - Assinale a alternativa em que a oração está na voz passiva.

- a) () As flores foram vendidas pelo menino.
- b) () Aqueles cães são doces.
- c) () O menino feriu-se no parque.
- d) () Os piratas encontraram o tesouro.

LEIA A TIRINHA:



Questão 6 - Na tirinha há o emprego de duas vezes verbais. Assinale a alternativa correta.

- a) () Segundo quadrinho VOZ ATIVA e terceiro quadrinho VOZ PASSIVA.
- b) () Segundo quadrinho VOZ REFLEXIVA e terceiro quadrinho VOZ PASSIVA.
- c) () Segundo quadrinho VOZ REFLEXIVA e terceiro quadrinho VOZ REFLEXIVA.
- d) () Segundo quadrinho VOZ REFLEXIVA e terceiro quadrinho VOZ ATIVA.

Questão 7 - Em qual das orações o predicado é Verbo-Nominal?

- a) () O médico chegou atrasado.
- b) () A menina chutou a bola.
- c) () A criança está alegre.
- d) () O cachorro latiu muito.

TEORIA DA MATEMÁTICA

Questão 1 - Simplifique a expressão $3a^2x+5bx^3-12a^2x-15bx^3-4x$, somando ou subtraindo os monômios semelhantes. Assinale a alternativa correta:

- a) () $-9a^2x-10bx^3-4x$
- b) () $4x+5ab$
- c) () $-9a^2x$
- d) () $10bx^3+4x$

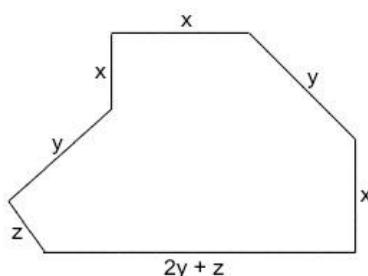
Questão 2 - Multiplique o monômio $3a^2x$ por $5bx^2$ e assinale a alternativa correta:

- a) () $15a^2bx$
- b) () $9a^2bx^3$
- c) () $9a^2b^2x$
- d) () $15a^2bx^3$

Questão 3 - Juliana tinha x reais. Comprou dois livros por y reais cada um, um caderno por z reais e ainda sobrou troco. Qual o polinômio que representa o troco que Juliana recebeu?

- a) () $x - y - z$
- b) () $x - 2y - z$
- c) () $2x - y - z$
- d) () $x - 2y - 2z$

Questão 4 - Analise a figura a seguir:



Suponha que o terreno comprado por um proprietário tenha a forma da figura acima e suas medidas sejam representadas em unidades de comprimento, pelas variáveis X , Y e Z . A expressão algébrica que representa o perímetro desse terreno é:

- a) () $2x + 3y + z$
- b) () $3x + 4y + 2z$
- c) () $3x + 3y + z$
- d) () $3x + 2y + 3z$

Questão 5 - Um quadrado tem lados medindo $a + 2$. Qual o polinômio reduzido que representa o perímetro (soma dos lados) desse quadrado?

- a) () $4a + 2$
- b) () $2a + 8$
- c) () $2a + 2$
- d) () $4a + 8$

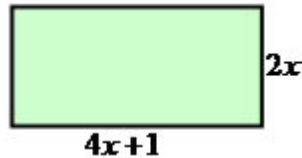
Questão 6 - Dados os polinômios $A = 2x$ e $B = 3x - 5y$. Então $A \cdot B$ é igual a:

- a) $6x^2 - 5y$ c) $6x + 10y$
b) $6x^2 - 10xy$ d) $6x^2 - 10y$

Questão 7 - A divisão do polinômio $9x^3 - 18x^2 + 27x$ por $9x$ é igual a:

- a) $x^2 - 2x + 3$ c) $x^2 + 2x^2 + 3x$
b) $x^3 - 2x^2 + 3x$ d) $x^3 - 2x + 3$

Questão 8 - Considere o seguinte retângulo abaixo:



Observe que suas dimensões são dadas na forma de expressões algébricas. Qual a expressão simplificada indica a sua área?

(Área do retângulo: Base \times Altura)

- a) $6x + 1$ c) $12x + 2$
b) $8x + 8$ d) $8x^2 + 2x$

Questão 9 - Qual o valor numérico da expressão $x^5 : x^3$, quando $x = 7$?

- a) 2 c) 49
b) 7 d) 56

Questão 10 - A expressão $2m + 10c$, dá o valor (em reais) que uma confeitaria ganha por vender m muffins e c , a quantidade bolos.

Quanto reais, a confeitaria ganha vendendo três muffins e quatro bolos?

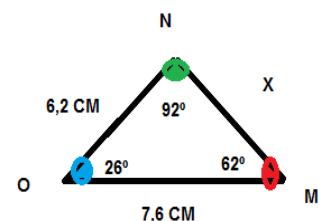
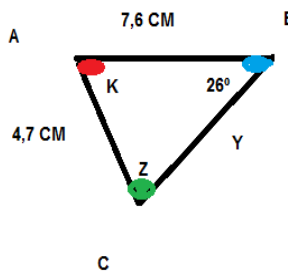
- a) R\$ 46,00 c) R\$ 22,00
b) R\$ 40,00 d) R\$ 45,00

GEOMETRIA

Questão 1 - Sabendo que os triângulos ABC e MNO são congruentes, determine os valores de X , Y , Z e K , respectivamente.

Assinale a alternativa correta:

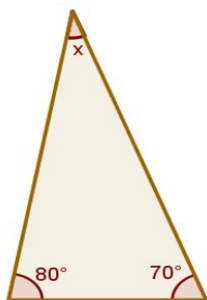
- a) 4,7 cm; 6,2 cm; 92° e 62°
b) 62° ; 4,7cm; 6,2cm e 92°
c) 6,2 cm; 4,7 cm; 92° e 62°
d) 92° ; 4,7 cm; 62° e 6,2cm



Questão 2 - Quanto vale a soma dos ângulos internos de um triângulo?

- a) 90° c) 240°
b) 180° d) 360°

Questão 3 - Qual é a medida do ângulo x do triângulo a seguir?



- a) () 180°
- b) () 90°
- c) () 40°
- d) () 30°

Questão 4 - Um dos ângulos internos de um triângulo isósceles mede 100°. Qual é a medida do ângulo agudo formado pelas bissetrizes dos outros ângulos internos?

- a) () 20°
- b) () 40°
- c) () 60°
- d) () 80°

Questão 5 - O triângulo cujos lados medem 5 cm, 6 cm e 7 cm:

- a) () é isóscele
- b) () é retângulo
- c) () é equilátero
- d) () é escaleno

CIÊNCIAS

Questão 1 - O ar inspirado passa pelas narinas e cavidades nasais. Nesse local encontramos pelos e muco que:

- a) () Atuam resfriando o ar.
- b) () Atuam retirando impurezas do ar, como poeira e agentes patogênicos.
- c) () Atuam no processo de hematose
- d) () Atuam no resfriamento do ar e no processo de hematose

Questão 2 - Assinale a alternativa correta. Os órgãos que constitui o sistema urinário são:

- a) () Rim, ureter, útero e bexiga.
- b) () Rim, bexiga e vagina.
- c) () Rim, bexiga, vagina e útero.
- d) () Rim, ureter, bexiga e uretra.

Questão 3 - Assinale a alternativa correta:

- a) () Na reprodução sexuada, ocorre a combinação de material genético de duas células reprodutivas.
- b) () Na reprodução sexuada, um único indivíduo origina descendentes geneticamente iguais a ele.
- c) () Na reprodução sexuada, organismos unicelulares dividem - se originando, dois indivíduos geneticamente iguais.
- d) () Alguns processos de reprodução sexuada são: divisão binária, brotamento e fragmentação.

Questão 4 - Os hormônios são definidos como substâncias produzidas pelas chamadas glândulas endócrinas. O conjunto dessas glândulas forma o conhecido sistema:

- a) () Nervoso.
- b) () Locomotor.
- c) () Endócrino.
- d) () Sensorial.

Questão 5 - A puberdade são mudanças físicas profundas, que vêm acompanhadas de alterações de humor, instabilidade emocional e muitos questionamentos e conflitos. É um período de transição da infância para a adolescência e é a fase do aparecimento das características sexuais, de acordo com o gênero. De acordo com tudo que você sabe sobre o tema, marque a alternativa que cita apenas mudanças físicas características dos meninos no período da puberdade.

- a) () Aumento da estatura e surgimento de pelos nas axilas.
- b) () Desenvolvimento das mamas e aumento de estatura
- c) () Primeira menstruação e aumento da estatura.
- d) () Aumento em volume dos testículos e oscilação da entonação da voz.

Questão 6 - O sistema genital feminino é responsável pela reprodução. Dos órgãos listados abaixo, qual não faz parte desse sistema?

- a) () Clitóris.
- b) () Uretra.
- c) () Tuba uterina.
- d) () Vagina.

Questão 7 - Nos homens há duas glândulas localizadas dentro do escroto, responsável pela produção de espermatozoide e do hormônio masculino testosterona. A essa glândula dá-se o nome de:

- a) () Próstata
- b) () Epidídimo
- c) () Testículo
- d) () Ductos deferentes

Questão 8 - Dos métodos contraceptivos citados abaixo, qual também protege de DST?

- a) () Vasectomia
- b) () preservativo feminino
- c) () Pílula anticoncepcional
- d) () Laqueadura tubária

Questão 9 - A união do espermatozoide e o óvulo em que se forma o zigoto é chamada de:

- a) () Fecundação
- b) () Ovulação
- c) () Nidação
- d) () Ejaculação

Questão 10 - A implantação do zigoto no útero ocorre cerca de 6 a 7 dias após a ovulação e é chamado de:

- a) () Menstruação
- b) () Fecundação
- c) () Ovulação
- d) () Nidação

HISTÓRIA

Questão 1 – O verso abaixo retrata a situação ocorrida no século XIX e refere-se:

*“Portugal não foi a guerra
Mas também não acovardou-se
Cobriu Lisboa com um pano
E escreveu por cima:
Portugal mudou-se.”*

- a) () A Revolução do Porto, que exige que João VI estabeleça a República.
- b) () As pressões do Bloqueio Continental, ocasionando a vinda da família real para o Brasil.
- c) () A derrota da Inglaterra com a invasão de Portugal.
- d) () Aos interesses portugueses na África, levando a coroa portuguesa a se transferir para aquela região.

Questão 2 - Ao decretar o Bloqueio Continental, Napoleão revela suas reais pretensões: Conquistar a Europa, contudo para atingir êxito esbarra naquela nação que é objeto do Bloqueio. Qual é esta nação.

- a) () Inglaterra
- b) () Espanha
- c) () Portugal
- d) () Áustria

Questão 3 - Qual é o modo de produção no qual a sociedade está organizada e pelo qual ela se desenvolve na atualidade?

- a) () Socialismo
- b) () Anarquismo
- c) () Capitalismo
- d) () Comunismo

Questão 4 - Socialmente, a Revolução Industrial favoreceu:

- a) () O enriquecimento do proletariado
- b) () A eliminação das diferenças de classes
- c) () O crescimento econômico da burguesia
- d) () O crescimento da população rural.

Questão 5 - A declaração de Independência dos Estados Unidos aprovada em 04 de julho de 1776 é de autoria de:

- a) () Thomas Jefferson
- b) () Andrew Jackson
- c) () George Washington
- d) () John Adams

Questão 6 - No início do século XVI ocorreram as primeiras tentativas de colonização inglesa na América. Mas somente a partir do século XVII a atividade colonizadora ganhou força, principalmente por meio da atuação das companhias de comércio que organizaram a migração de colonos de nacionalidades variadas na região. O texto acima fala sobre:

- a) () Colonização da América latina
- b) () Colonização da América do Norte
- c) () Independência do Brasil
- d) () Colonização da América Espanhola.


Questão 7 - Em relação ao sistema de trabalho nas fábricas, NÃO podemos afirmar que:

- a) () As condições na fábrica eram insalubres, pois o ambiente era abafado, úmido, sujo e escuro.
- b) () A jornada diária de trabalho, muitas vezes, começava pela madrugada e terminava às dez da noite.
- c) () Os trabalhadores eram obrigados a trabalhar sem qualquer forma de remuneração.
- d) () Mulheres e crianças eram empregadas com remuneração inferior à dos homens.

Questão 8 - A respeito da colonização espanhola na América, podemos afirmar:

- a) () O objetivo do sistema colonial implantado na América era explorar ao máximo as riquezas da colônia, em benefício das metrópoles.
- b) () A crise no sistema colonial, a partir do século XVIII, teve como causa profunda a intenção da colônia de escapar da dominação religiosa da metrópole.
- c) () O capitalismo industrial nunca entrou em choque com o sistema colonial, pois apoiava as barreiras impostas pelo monopólio colonial e o regime escravista.
- d) () As civilizações nativas da América apoiavam o “pacto colonial”, pois estavam enriquecendo e conquistando territórios.

Questão 9 - Podemos afirmar que a conquista dos povos indígenas do continente americano deveu-se, sobretudo:



- a) à esmagadora inferioridade cultural das populações vencidas que, ao contrário da Espanha, não tinham nem rei, nem lei, nem fé.
- b) à incrível coragem dos aventureiros espanhóis, que enfrentaram bravamente uma população nativa muitas vezes maior que a sua e com um equipamento bélico muito superior ao seu.
- c) à superioridade técnica dos espanhóis, que conheciam armas de fogo, aproveitaram-se das lutas políticas entre as próprias nações indígenas para formar alianças e, ainda, trouxeram doenças que dizimaram a população indígena.
- d) a uma extraordinária proteção divina dada aos espanhóis, que tomaram a nova terra em nome de Deus e da cristianização dos pagãos, para os reis católicos Fernando e Isabel.

Questão 10 - Qual das alternativas abaixo apresenta três leis criadas pela Inglaterra e aplicadas nas colônias americanas, que geraram forte descontentamento entre os colonos e influenciaram o processo de Independência dos Estados Unidos da América?

- a) Lei da água, lei do café e lei do trabalho escravo.
- b) Lei do milho, lei do algodão e lei da soja.
- c) Lei da indústria, lei dos sapatos e lei dos tecidos
- d) Lei do chá, lei do selo e lei do açúcar.

GEOGRAFIA

Questão 1 - Os países emergentes são aqueles que apresentam grande potencial e buscam reordenar em vários aspectos como no mercado, na política e sua economia está em busca da evolução. A expressão “PAÍSES EMERGENTES” faz referência aos países?

- a) desenvolvidos
- b) em desenvolvimento
- c) subdesenvolvidos
- d) socialista

Questão 2 - Algumas expressões eram usadas para designar o grau de desenvolvimento dos países tais como 1º, 2º e 3º mundo. Assinale a alternativa correta.

- a) 1º mundo: países ricos e socialista; 2º mundo: países desenvolvido e pobre; 3º mundo: países subdesenvolvido e rico.
- b) 1º mundo: países ricos e em desenvolvimento ; 2º mundo: países subdesenvolvido e rico; 3º mundo: países pobres e subdesenvolvido.
- c) 1ºmundo: países ricos e desenvolvidos; 2ºmundo: países socialistas e em desenvolvimento; 3ºmundo: países pobres e subdesenvolvidos.
- d) Nenhuma das alternativas.

Questão 3 - Os países subdesenvolvidos estão à margem do sistema capitalista, na condição de fornecedores de matérias-primas e mão de obra baratas, por isso eles também são chamados de países?

- a) () periféricos b) () centrais c) () primeiro mundo d) () do Norte

Questão 4 - O G2- grupo formado pelos dois maiores PIBs mundiais. Quais são esses dois países?

- a) () Alemanha e EUA c) () Japão e EUA
b) () EUA e China d) () Alemanha e China

Questão 5 - A superfície terrestre é formada por áreas emersas e submersas compostas por?

- a) () as emersas por ilhas e submersas por oceanos e continentes.
b) () as emersas por continentes e ilhas, e submersas por mares e oceanos
c) () as emersas por ilhas e submersas por mares e continentes.
d) () as emersas por continentes e submersas as ilhas e mares.

Questão 6- Atualmente, as áreas emersas ocupam menos de um terço de toda a superfície do planeta, sendo divididas em continentes. Já as áreas submersas ocupam a maior parte da superfície terrestre e são divididas em oceanos. Quantos são os continentes e os oceanos?

- a) () divididos em 6 continentes e 5 oceanos.
b) () divididos em 5 continentes e 4 oceanos.
c) () divididos em 6 continentes e 4 oceanos.
d) () divididos em 5 continentes e 6 oceanos.

Questão 7- A respeito dos continentes e oceanos, assinale a INCORRETA:

- a) () Pacífico (maior e mais profundo).
b) () O Oceano Atlântico é o mais importante do ponto de vista econômico.
c) () Índico (terceiro maior e com uma grande biodiversidade).
d) () Glacial Ártico (suas águas permanecem quentes durante grande parte do ano).

Referências: <https://exercicios.brasilecola.uol.com.br>.

<https://www.policiamilitar.mg.gov.br>.

EDUCAÇÃO FÍSICA

Questão 1 - Quais as modalidades de ginástica denominadas competitivas?

- a) () Acrobáticas, artística, rítmica e trampolim.
b) () Laboral, acrobáticas, rítmica e trampolim.
c) () Hidroginástica, acrobáticas, artística e trampolim.
d) () Laboral, ginástica localizada de academia, artística e rítmica.

Questão 2 - Assinale a alternativa que é chamado de esporte base no atletismo:

- a) () Andar, correr, escorregar, mergulhar e virar.
b) () Andar, correr, rastejar, escorregar e girar.
c) () Andar, correr, saltar, lançar e arremessar.
d) () Saltar, lançar, arremessar, girar e escorregar.

Questão 3 - Em que ano e em qual cidade começou a ser praticado o atletismo no Brasil?

- a) () Em 1908 na cidade de São Paulo. c) () Em 1925 na cidade do Rio de Janeiro.
b) () Em 1910 na cidade de São Paulo. d) () Em 1945 na cidade de Minas Gerais.

Questão 4 - Quais as variações de defesas utilizadas no basquetebol?

- a) () Estática e em movimento. c) () Individual e zona.
b) () Estática e zona. d) () Individual e em movimento.

Questão 5 - Quais as principais posições no basquetebol?

- a) () Lateral, pivô e meia. c) () Ala, atacante e lateral.
b) () Lateral, atacante e meia. d) () Ala, pivô e armador.

ARTE

Questão 1 - Assinale a alternativa relacionada apenas à linguagem da Dança:

- a) () Coreografia, movimentos corporais e partitura musical.
b) () Frevo, Teoria das cores e coreografia.
c) () Videodança, instrumentos musicais e movimentos corporais.
d) () Coreografia, videodança e movimentos corporais.

Questão 2 - Assinale a alternativa correspondente à origem do nome da dança Xaxado.

- a) () A dança recebeu o nome pela origem africana dos escravos que a praticavam.
b) () Representa o barulho das sandálias arrastadas no chão durante a dança.
c) () O nome Xaxado é uma representação da culinária indígena.
d) () Representa espaços urbanos utilizados na videodança.

Questão 3 - Leia as alternativas abaixo e coloque (V) quando estiver correta e (F) se for falsa.

- () As origens do frevo estão relacionadas ao contato dos sons das bandas marciais com movimento dos capoeiristas durante o século XIX, em Recife.
() A relação com a capoeira pode ser notadas em alguns passos da valsa.
() Na dança do frevo, os dançarinos usam roupas e sombrinhas coloridas que auxiliam no equilíbrio dos passistas durante as acrobacias.
() Os saltos e as expressões de vigor e alegria nos rostos dos dançarinos são as principais características do frevo.

A sequência correta é:

- a) () V, V, F, F b) () F, F, V, V c) () V, F, V, V d) () F, V, F, V

Questão 4 - Preencha as lacunas abaixo e assinale a alternativa que completa a frase corretamente:

"A dança e a _____ tiveram e ainda têm um papel _____ dentro da cultura indígena. Geralmente, a dança é realizada em _____ e _____ religiosas em agradecimento ou como forma de pedidos às _____."

- a) () Luta, rituais, dança, música e festas.
b) () Música, religioso, rituais, festividades e divindades.
c) () Dança, luta, festa, luto e santas.
d) () Rituais, música, luta, dança e religiões.

Questão 5 - A capoeira se faz na roda e os capoeiristas tocam vários instrumentos. Assinale a alternativa correta:

- a) () Pandeiro, violão, sanfona e reco-reco.
- b) () Piano, agogô, atabaque e berimbau.
- c) () Reco-reco, viola, trombone e harpa.
- d) () Berimbau, agogô, pandeiro, atabaque, caxixi e reco-reco.

INGLÊS

Questão 1 - Assinale a alternativa que apresenta corretamente a forma negativa e interrogativa da frase: **“There are 30 books on the table”**.

- a) () There are not 30 books on the table./ Are there 30 books on the table?
- b) () There not are 30 books on the table./ Aren't 30 books on the table?
- c) () There are 30 books not on the table./ Are there not 30 books on the table?
- d) () There not 30 books on the table./ There are 30 books on the table?

Questão 2 - Marque a frase que está escrita corretamente no tempo passado e de acordo com a regra gramatical.

- a) () She study Math last night.
- b) () She studies Math last night.
- c) () She did study Math last night.
- d) () She studied Math last night.

Questão 3 - Assinale a alternativa que responde de forma completa as seguintes perguntas:

*What did you study yesterday?
When did you study English?
Why did you study English yesterday?*

- a) () Eu estudo Inglês hoje porque gosto.
- b) () Eu estudei Inglês porque gosto.
- c) () Eu estudei Inglês ontem porque havia um teste.
- d) () Nenhuma das alternativas.

Questão 4 - Qual alternativa contém na frase o grau comparativo de superioridade?

- a) () You are the tallest player in the team
- b) () That is the most comfortable house near.
- c) () I am as intelligent as my brother.
- d) () He is taller than his father.

Questão 5 - Qual alternativa traduz a frase: **“Este é o melhor livro que eu tenho”**.

- a) () That is the best book I have.
- b) () Those are the best books I have.
- c) () This is the best book I have.
- d) () These are the best books I have.